

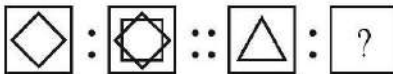

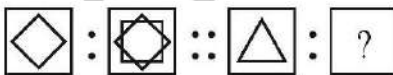

उत्तर प्रदेश अधीनस्थ सेवा चयन आयोग, लखनऊ
विज्ञापन संख्या-12-परीक्षा/2024
कनिष्ठ सहायक मुख्य परीक्षा (प्रा.अ.प.-2023)/12
उत्तर कुंजी (मास्टर सेट)

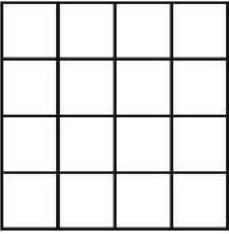
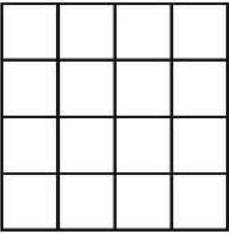
परीक्षा तिथि : 01-02-2026

Set Code : ZO3

1.	हिंदी में स्वरवर्णों की संख्या कितनी है ? ग्यारह
2.	‘शिवालय’ का संधि-विच्छेद क्या है ? शिव + आलय
3.	‘महेंद्र’ किस संधि का उदाहरण है ? गुण
4.	‘शब्द’ के शुद्ध रूप का चयन कीजिए । प्रसाद
5.	इनमें से कौन-सा शब्द ‘जीवन’ का अर्थ नहीं है ? शिक्षक
6.	निम्नलिखित में से ‘अशुद्ध’ शब्द का चयन कीजिए । निरोग
7.	‘हिमालय से गंगा निकलती है ।’ यह किस कारक का उदाहरण है ? अपादान कारक
8.	‘कौन आता है ?’ रेखांकित पद किस सर्वनाम का उदाहरण है ? प्रश्नवाचक
9.	इनमें से गुणवाचक विशेषण शब्द कौन-सा है ? पुराना
10.	‘संभव है, रमेश कल आए ।’ यह वाक्य किस काल का उदाहरण है ? संभाव्य भविष्य

11.	निम्न में से 'तत्सम' शब्द कौन-सा है ? उपर्युक्त में से कोई नहीं
12.	'निंब' का तद्भव रूप क्या है ? नीम
13.	निम्न में से विस्मयादिबोधक अव्यय कौन-सा है ? वाह-वाह !
14.	'तुलनाबोधक निपात' का चयन कीजिए । सा
15.	निम्नलिखित विकल्पों में से 'देशज' शब्द का चयन कीजिए । डिबिया
16.	'संन्यास' शब्द में कौन-सा उपसर्ग प्रयुक्त है ? सम्
17.	'राहखर्च' किस समास का उदाहरण है ? तत्पुरुष समास
18.	रचना की दृष्टि से वाक्य के कितने प्रकार हैं ? उपर्युक्त में से कोई नहीं
19.	'जो लड़के अच्छे होते हैं, वे परिश्रमी होते हैं।' यह किस प्रकार के वाक्य का उदाहरण है ? मिश्र वाक्य
20.	वाक्य के शुद्ध रूप का चयन कीजिए । मैं गाने का रियाज़ कर रहा हूँ।
21.	'अग्नि' का पर्यायवाची है वायुसखा
22.	'वह हथियार जो फेंककर चलाया जाता है' क्या कहलाता है ? अस्त्र
23.	'जानने की इच्छा' इस वाक्यांश के लिए एक शब्द है जिज्ञासा
24.	विलोम शब्द के लिए सही विकल्प का चयन कीजिए । आगामी - विगत

25.	‘सहयोगी’ का विलोम क्या है ? उपर्युक्त में से कोई नहीं
26.	‘स्तब्ध होना’ इस अर्थ को व्यक्त करने वाला मुहावरा है हाथ के तोते उड़ना
27.	‘अंधों में काना राजा’ इस लोकोक्ति का अर्थ है मूर्खों में कुछ पढ़ा-लिखा व्यक्ति
28.	‘विज्ञापन’ शब्द में मूल शब्द क्या है ? ज्ञापन
29.	निम्नलिखित शब्दों में से ‘वातानुकूलन-यंत्र’ का कौन-सा अर्थ सर्वाधिक उपयुक्त है ? एयर कंडीशनर
30.	‘विज्ञापन की वैसाखी’ इस वाक्यांश का भाव क्या है ? विज्ञापन की ताकत
31.	सबसे उपयुक्त विकल्प चुनें । सेब : फल :: पीला : ? रंग Select the most appropriate option. APPLE : FRUIT :: YELLOW : ? COLOUR
32.	संबंधित आकृति का चयन करें जो समतुल्यता के अनुरूप हो ।   Select the related figure that fits the analogy.  

33.	<p>निम्नलिखित में से विषम को चुनें :</p> <p>E, H, K, N.</p> <p>E</p> <p>Pick odd one out among the following :</p> <p>E, H, K, N.</p> <p>E</p>
34.	<p>यदि $N = 14$ और $PAN = 31$ है, तो $PIN = ?$</p> <p>39</p> <p>If $N = 14$ and $PAN = 31$, then $PIN = ?$</p> <p>39</p>
35.	<p>यदि 40 विद्यार्थियों की एक कक्षा में राम का स्थान ऊपर से 14 वां है तथा श्याम के स्थान से नीचे 10 विद्यार्थी हैं, तो राम और श्याम के बीच विद्यार्थियों की संख्या है</p> <p>15</p> <p>If Ram ranks 14th from top in a class of 40 students and there are 10 students below Sham's rank, then number of students between Ram and Sham is</p> <p>15</p>
36.	<p>निम्नलिखित आकृति में वर्गों की संख्या है</p>  <p>30</p> <p>The number of squares in the following figure is</p>  <p>30</p>

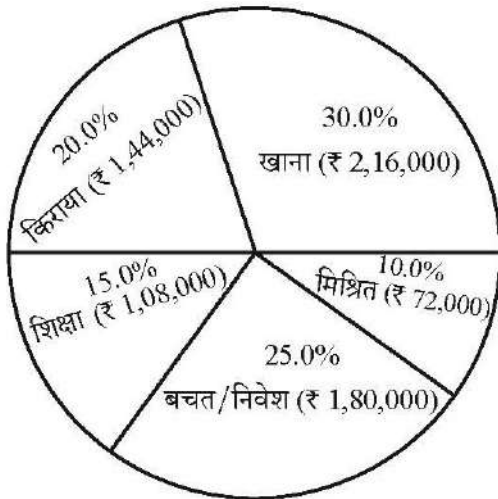
37.	<p>निर्णय लेने की प्रक्रिया में पहला कदम क्या है ?</p> <p>निर्णय/समस्या की पहचान करें</p> <p>What is the first step in the decision-making process ?</p> <p>Identify the decision/problem</p>
38.	<p>उस विकल्प का चयन करें जो निम्नलिखित शब्दों के सही वर्णानुक्रम को दिखाता है जैसे वे एक अंग्रेजी शब्दकोश में दिखाई देंगे :</p> <p>a. Mountain b. Mourn c. Mouse d. Mould e. Motel f. Motion</p> <p>e, f, d, a, b, c</p> <p>Select the option that shows the correct alphabetical order of the following words as they would appear in an English dictionary :</p> <p>a. Mountain b. Mourn c. Mouse d. Mould e. Motel f. Motion</p> <p>e, f, d, a, b, c</p>
39.	<p>निम्नलिखित में से कौन-सा एक रिश्ते में प्रभावी संचार का सबसे अच्छा उदाहरण है ?</p> <p>जवाब देने से पहले सुनना</p> <p>Which of the following best exemplifies effective communication in a relationship ?</p> <p>Listening before responding</p>
40.	<p>श्रृंखला में अगली संख्या खोजें :</p> <p>3, 15, 35, 63, 99, ?</p> <p>143</p> <p>Find the next number in the series :</p> <p>3, 15, 35, 63, 99, ?</p> <p>143</p>

41.	<p>निम्नलिखित अनुक्रम के लिए सबसे उपयुक्त उत्तर चुनें ।</p> <p>○ ○ ● ▲ △ △ □ ?</p> <p>□ ■</p> <p>Choose the most appropriate answer for the following sequence.</p> <p>○ ○ ● ▲ △ △ □ ?</p> <p>□ ■</p>
42.	<p>यदि एक निश्चित कोड भाषा में 'CALL' को 'BZKK' के रूप में लिखा जाता है, तो उस भाषा में 'PEON' को कैसे कोड किया जाएगा ?</p> <p>ODNM</p> <p>If in a certain code language 'CALL' is written as 'BZKK', then how will 'PEON' be coded in that language ?</p> <p>ODNM</p>
43.	<p>मान लीजिए कि दोनों कथन सत्य हैं । तय करें कि कौन-से निष्कर्ष तार्किक रूप से अनुसरण करते हैं ?</p> <p>कथन :</p> <p>I. सभी फल बीज हैं ।</p> <p>II. सभी बीज पौधे हैं ।</p> <p>निष्कर्ष :</p> <p>I. कोई भी पौधा फल नहीं है ।</p> <p>II. कोई भी बीज फल नहीं है ।</p> <p>III. सभी पौधे फल हैं ।</p> <p>उपर्युक्त में से कोई नहीं</p> <p>Assume both statements are true. Decide which conclusions logically follow ?</p> <p>Statements :</p> <p>I. All fruits are seeds.</p> <p>II. All seeds are plants.</p> <p>Conclusions :</p> <p>I. No plant is a fruit.</p> <p>II. No seed is a fruit.</p> <p>III. All plants are fruits.</p> <p>None of the above</p>

44.

वार्षिक घरेलू खर्चों को दिखाने वाले निम्नलिखित पाई चार्ट के आधार पर, किराए पर खर्च की गई राशि और खाने पर खर्च की गई राशि का अनुपात क्या है ?


घरेलू व्यय वितरण (₹ में)



उपर्युक्त में से कोई नहीं

Based on the following pie chart showing annual household expenses, what is the ratio of the amount spent on rent to the amount spent on food ?

Household Expense Distribution (in ₹)



None of the above

45. निम्नलिखित तालिका के आधार पर लगातार दो तिमाहियों (Q1 और Q2) में चार प्रमुख क्षेत्रों (उत्तर, दक्षिण, पूर्व और पश्चिम) के लिए कंपनी की कुल वार्षिक बिक्री का प्रतिनिधित्व करते हुए, Q1 से Q2 तक बिक्री में अधिकतम वृद्धि वाला क्षेत्र है

क्षेत्र	Q1 बिक्री (लाख में)	Q2 बिक्री (लाख में)
उत्तर	15,000	18,000
दक्षिण	22,000	25,000
पूर्व	12,000	14,000
पश्चिम	18,000	20,000

उपर्युक्त में से कोई नहीं

Based on the following table representing a company's total annual sales for four major regions (North, South, East and West) over two consecutive quarters (Q1 and Q2), the region with maximum increase in sales from Q1 to Q2 is

Region	Q1 Sales (in lakhs)	Q2 Sales (in lakhs)
North	15,000	18,000
South	22,000	25,000
East	12,000	14,000
West	18,000	20,000

None of the above

46. गंगा नदी कहाँ से निकलती है ?

गंगोत्री हिमनद

Where does the river Ganga originate from ?

Gangotri Glacier

47. निम्नलिखित में से किसका व्यापक रूप से घरेलू ईंधन के रूप में उपयोग किया जाता है ?

एलपीजी

Which of the following is widely used as domestic fuel ?

LPG

48. शरीर का कौन-सा अंग पूरे शरीर में रक्त पंप करता है ?

हृदय

Which organ of the body pumps blood throughout the body ?

Heart

49.	<p>राजस्थान में पोखरण भारत की किस उपलब्धि के लिए प्रसिद्ध है ?</p> <p>परमाणु बम के सफल परीक्षण के लिए</p> <p>Pokhran in Rajasthan is famous for which achievement of India ?</p> <p>For successful Atomic Bomb testing</p>
50.	<p>2020 में दुनिया में फैली महामारी की पहचान कीजिए ।</p> <p>कोविड -19</p> <p>Identify the Pandemic that spread in the world in 2020.</p> <p>Covid-19</p>
51.	<p>निम्नलिखित में से कौन-सा संगठन भारत के अंतरिक्ष कार्यक्रमों को चलाता है ?</p> <p>इसरो</p> <p>Which of the following organisations runs India's Space Programmes ?</p> <p>ISRO</p>
52.	<p>किस राष्ट्रवादी नेता ने स्वतंत्रता संग्राम के दौरान भारत छोड़ो आंदोलन शुरू किया ?</p> <p>महात्मा गाँधी</p> <p>Which nationalist leader launched Quit India Movement during the Freedom Struggle ?</p> <p>Mahatma Gandhi</p>
53.	<p>भारत की अर्थव्यवस्था का कौन-सा क्षेत्र देश के अधिकांश लोगों को रोजगार देता है ?</p> <p>कृषि</p> <p>Which sector of India's economy employs most of the people in the country ?</p> <p>Agriculture</p>
54.	<p>भारत का कौन-सा बैंक मुद्रा नोट जारी करता है ?</p> <p>भारतीय रिजर्व बैंक</p> <p>Which bank in India issues currency notes ?</p> <p>Reserve Bank of India</p>
55.	<p>1919 में, ब्रिटिश भारत में हिंसक जलियांवाला बाग नरसंहार कहाँ हुआ था ?</p> <p>अमृतसर, पंजाब</p> <p>In 1919, where did the violent Jallianwala Bagh Massacre take place in British India ?</p> <p>Amritsar, Punjab</p>

56.	<p>निम्नलिखित में से किस राष्ट्रीय स्वतंत्रता आंदोलन को नमक सत्याग्रह के रूप में जाना जाता है ? सविनय अवज्ञा आंदोलन</p> <p>Which of the following national freedom movements is known as Salt Satyagraha ? Civil Disobedience Movement</p>
57.	<p>ब्रिटिश भारत में स्वदेशी आंदोलन, 1905-08 के दौरान मातृभूमि को समर्पित कौन-सा गीत लोकप्रिय हुआ ? वंदे मातरम</p> <p>Which song dedicated to the Motherland, became popular during the Swadeshi Movement, 1905-08 in British India ? Vande Mataram</p>
58.	<p>निम्नलिखित में से किस राज्य में कोयले के समृद्ध भंडार हैं ? छत्तीसगढ़</p> <p>Which of the following states has rich coal deposits ? Chhattisgarh</p>
59.	<p>निम्नलिखित नामों से भारत के मुख्य चुनाव आयुक्त (सी.ई.सी.), 2025 की पहचान करें । ज्ञानेश कुमार</p> <p>Identify India's Chief Election Commissioner (CEC), 2025, from the following names. Gyanesh Kumar</p>
60.	<p>भारत ने 2025 में किस देश से राफेल-एम लड़ाकू विमान खरीदे हैं ? उपर्युक्त में से कोई नहीं</p> <p>From which country has India purchased Rafale - M fighter jet planes in 2025 ? None of the above</p>
61.	<p>1969 में शुरू हुए किस कंप्यूटर नेटवर्क को आज के इंटरनेट के पहले संस्करण के रूप में जाना जाता है ? एआरपीएनईटी</p> <p>Which computer network started in 1969 is known as the first version of today's Internet ? ARPANET</p>

<p>62.</p>	<p>सूची – I को सूची – II के साथ मिलान कीजिए ।</p> <table border="0"> <tr> <th>सूची – I</th><th>सूची – II</th></tr> <tr> <td>a. माइक्रोसॉफ्ट वर्ड</td><td>I. संचालन प्रणाली</td></tr> <tr> <td>b. लिनक्स</td><td>II. वर्ड प्रोसेसर</td></tr> <tr> <td>c. गूगल क्रोम</td><td>III. छवि संपादन सॉफ्टवेयर</td></tr> <tr> <td>d. फ़ोटोशॉप</td><td>IV. वेब ब्राउज़र</td></tr> </table> <p>नीचे दिए गए विकल्पों में से सबसे उपयुक्त उत्तर का चयन कीजिए :</p> <p>a – II b – I c – IV d – III</p> <p>Match List – I with List – II.</p> <table border="0"> <tr> <th>List – I</th><th>List – II</th></tr> <tr> <td>a. Microsoft Word</td><td>I. Operating System</td></tr> <tr> <td>b. Linux</td><td>II. Word Processor</td></tr> <tr> <td>c. Google Chrome</td><td>III. Image Editing Software</td></tr> <tr> <td>d. Photoshop</td><td>IV. Web Browser</td></tr> </table> <p>Choose the most appropriate answer from the options given below :</p> <p>a – II b – I c – IV d – III</p>	सूची – I	सूची – II	a. माइक्रोसॉफ्ट वर्ड	I. संचालन प्रणाली	b. लिनक्स	II. वर्ड प्रोसेसर	c. गूगल क्रोम	III. छवि संपादन सॉफ्टवेयर	d. फ़ोटोशॉप	IV. वेब ब्राउज़र	List – I	List – II	a. Microsoft Word	I. Operating System	b. Linux	II. Word Processor	c. Google Chrome	III. Image Editing Software	d. Photoshop	IV. Web Browser
सूची – I	सूची – II																				
a. माइक्रोसॉफ्ट वर्ड	I. संचालन प्रणाली																				
b. लिनक्स	II. वर्ड प्रोसेसर																				
c. गूगल क्रोम	III. छवि संपादन सॉफ्टवेयर																				
d. फ़ोटोशॉप	IV. वेब ब्राउज़र																				
List – I	List – II																				
a. Microsoft Word	I. Operating System																				
b. Linux	II. Word Processor																				
c. Google Chrome	III. Image Editing Software																				
d. Photoshop	IV. Web Browser																				
<p>63.</p>	<p>निम्नलिखित प्रकार के कंप्यूटरों को प्रसंस्करण शक्ति में सबसे छोटे से लेकर सबसे बड़े तक व्यवस्थित कीजिए :</p> <ol style="list-style-type: none"> सूक्ष्म कंप्यूटर लघु कंप्यूटर मेनफ्रेम कंप्यूटर सुपर कंप्यूटर <p>नीचे दिए गए विकल्पों में से सबसे उपयुक्त उत्तर का चयन कीजिए :</p> <p>a, b, c, d</p> <p>Arrange the following types of computers from smallest to largest in processing power :</p> <ol style="list-style-type: none"> Micro computers Mini computers Mainframe computers Super computers <p>Choose the most appropriate answer from the options given below :</p> <p>a, b, c, d</p>																				

64.	<p>यू. एस. बी. (यूनिवर्सल सीरियल बस) उपकरण का प्राथमिक उद्देश्य क्या है ? बाहरी उपकरणों को जोड़ना और डेटा स्थानांतरित करना</p> <p>What is the primary purpose of a USB (Universal Serial Bus) device ? To connect external devices and transfer data</p>																				
65.	<p>कंप्यूटर का जनक किसे कहा जाता है ? चार्ल्स बैबेज</p> <p>Who is known as the father of computers ? Charles Babbage</p>																				
66.	<p>ई-गवर्नेंस क्या है ? सरकारी सेवाएँ प्रदान करने के लिए इंटरनेट का उपयोग करना</p> <p>What is e-Governance ? Using the Internet to Provide Government Services</p>																				
67.	<p>मानचित्र और पोस्टर जैसे बड़े चित्रों को छापने के लिए किस हार्डवेयर उपकरण का उपयोग किया जाता है ? प्लॉटर</p> <p>Which hardware device is used to print large drawings, such as maps and posters ? Plotter</p>																				
68.	<p>सूची – I के साथ सूची – II का मिलान करें ।</p> <table border="0"> <tr> <td>सूची – I</td><td>सूची – II</td></tr> <tr> <td>a. एमएस वर्ड</td><td>I. ऑपरेटिंग सिस्टम</td></tr> <tr> <td>b. विंडोज</td><td>II. स्प्रेडशीट सॉफ्टवेयर</td></tr> <tr> <td>c. एमएस एक्सेल</td><td>III. प्रेजेंटेशन सॉफ्टवेयर</td></tr> <tr> <td>d. एमएस पावरप्वाइंट</td><td>IV. वर्ड प्रोसेसिंग सॉफ्टवेयर</td></tr> </table> <p>नीचे दिए गए विकल्पों में से सबसे उपयुक्त उत्तर चुनें । a – IV b – I c – II d – III</p> <p>Match List – I with List – II.</p> <table border="0"> <tr> <td>List – I</td><td>List – II</td></tr> <tr> <td>a. MS Word</td><td>I. Operating System</td></tr> <tr> <td>b. Windows</td><td>II. Spreadsheet Software</td></tr> <tr> <td>c. MS Excel</td><td>III. Presentation Software</td></tr> <tr> <td>d. MS PowerPoint</td><td>IV. Word Processing Software</td></tr> </table> <p>Choose the most appropriate answer from the options given below. a – IV b – I c – II d – III</p>	सूची – I	सूची – II	a. एमएस वर्ड	I. ऑपरेटिंग सिस्टम	b. विंडोज	II. स्प्रेडशीट सॉफ्टवेयर	c. एमएस एक्सेल	III. प्रेजेंटेशन सॉफ्टवेयर	d. एमएस पावरप्वाइंट	IV. वर्ड प्रोसेसिंग सॉफ्टवेयर	List – I	List – II	a. MS Word	I. Operating System	b. Windows	II. Spreadsheet Software	c. MS Excel	III. Presentation Software	d. MS PowerPoint	IV. Word Processing Software
सूची – I	सूची – II																				
a. एमएस वर्ड	I. ऑपरेटिंग सिस्टम																				
b. विंडोज	II. स्प्रेडशीट सॉफ्टवेयर																				
c. एमएस एक्सेल	III. प्रेजेंटेशन सॉफ्टवेयर																				
d. एमएस पावरप्वाइंट	IV. वर्ड प्रोसेसिंग सॉफ्टवेयर																				
List – I	List – II																				
a. MS Word	I. Operating System																				
b. Windows	II. Spreadsheet Software																				
c. MS Excel	III. Presentation Software																				
d. MS PowerPoint	IV. Word Processing Software																				

69.	<p>निम्नलिखित में से कौन-सा एक सही ईमेल पता है ?</p> <p>उपर्युक्त में से कोई नहीं</p> <p>Which of the following is a correct email address ?</p> <p>None of the above</p>
70.	<p>सोशल नेटवर्किंग प्लेटफॉर्म का प्राथमिक उद्देश्य क्या है ?</p> <p>लोगों को जोड़ने और उन्हें संदेश, फोटो और अपडेट साझा करने में सक्षम बनाना</p> <p>What is the primary purpose of social networking platforms ?</p> <p>To connect people and enable them to share messages, photos and updates</p>
71.	<p>निम्नलिखित में से कौन-सा डिजिटल वॉलेट है ?</p> <p>पेटीएम</p> <p>Which of the following is a digital wallet ?</p> <p>Paytm</p>
72.	<p>वित्तीय लेन-देन के लिए आधार से कौन-सा डिजिटल वित्तीय उपकरण जुड़ा हुआ है ?</p> <p>यूपीआई</p> <p>Which digital financial tool is linked to Aadhaar for financial transactions ?</p> <p>UPI</p>
73.	<p>निम्नलिखित में से कौन-सा डिजिटल उपकरण राजमार्गों पर बिना रुके स्वचालित टोल भुगतान की अनुमति देता है ?</p> <p>फास्टैग</p> <p>Which of the following digital tools allows automatic toll payment on highways without stopping ?</p> <p>FASTag</p>
74.	<p>इंटरनेट निम्नलिखित का एक नेटवर्क है</p> <p>विश्व स्तर पर जुड़े कम्प्यूटर्स</p> <p>The Internet is a network of</p> <p>Globally connected computers</p>
75.	<p>निम्नलिखित में से कौन-सा उपकरण आपको इंटरनेट पर वेबसाइट खोलने और देखने की अनुमति देता है ?</p> <p>वेब ब्राउज़र</p> <p>Which of the following tools allows you to open and view websites on the Internet ?</p> <p>Web Browser</p>

76.	<p>निम्नलिखित में से कौन-सा संरचित डेटा का एक उदाहरण है ?</p> <p>एक्सेल</p> <p>Which of the following is an example of structured data ?</p> <p>Excel</p>																				
77.	<p>निम्नलिखित में से कौन-सा आर्टिफिशियल इंटेलिजेंस (एआई) का एक उदाहरण है ?</p> <p>चैटजीपीटी</p> <p>Which of the following is an example of Artificial Intelligence (AI) ?</p> <p>ChatGPT</p>																				
78.	<p>निम्नलिखित में से कौन-सा एक लोकप्रिय एआई-आधारित आवाज सहायक है ?</p> <p>सिरी</p> <p>Which of the following is a popular AI-based voice assistant ?</p> <p>Siri</p>																				
79.	<p>सूची – I के साथ सूची – II का मिलान करें ।</p> <table border="0"> <tr> <td style="text-align: center;">सूची – I</td> <td style="text-align: center;">सूची – II</td> </tr> <tr> <td>a. आईओटी (IoT)</td> <td>I. डेटा की बहुत बड़ी मात्रा</td> </tr> <tr> <td>b. बिग डेटा</td> <td>II. ऐसी मशीनें जो मनुष्यों की तरह सोचती हैं और कार्य करती हैं</td> </tr> <tr> <td>c. डीप लर्निंग</td> <td>III. ऑनलाइन जुड़े और संचार करने वाले उपकरण</td> </tr> <tr> <td>d. आर्टिफिशियल इंटेलिजेंस</td> <td>IV. तंत्रिका तंत्र की कई परतों का उपयोग करके सीखना</td> </tr> </table> <p>नीचे दिए गए विकल्पों में से सबसे उपयुक्त उत्तर चुनें ।</p> <p>a – III b – I c – IV d – II</p> <p>Match List – I with List – II.</p> <table border="0"> <tr> <td style="text-align: center;">List – I</td> <td style="text-align: center;">List – II</td> </tr> <tr> <td>a. IoT</td> <td>I. Very large amount of data</td> </tr> <tr> <td>b. Big Data</td> <td>II. Machines that think and act like humans</td> </tr> <tr> <td>c. Deep Learning</td> <td>III. Devices connected and communicating online</td> </tr> <tr> <td>d. Artificial Intelligence</td> <td>IV. Learning using many layers of neural networks</td> </tr> </table> <p>Choose the most appropriate answer from the options given below.</p> <p>a – III b – I c – IV d – II</p>	सूची – I	सूची – II	a. आईओटी (IoT)	I. डेटा की बहुत बड़ी मात्रा	b. बिग डेटा	II. ऐसी मशीनें जो मनुष्यों की तरह सोचती हैं और कार्य करती हैं	c. डीप लर्निंग	III. ऑनलाइन जुड़े और संचार करने वाले उपकरण	d. आर्टिफिशियल इंटेलिजेंस	IV. तंत्रिका तंत्र की कई परतों का उपयोग करके सीखना	List – I	List – II	a. IoT	I. Very large amount of data	b. Big Data	II. Machines that think and act like humans	c. Deep Learning	III. Devices connected and communicating online	d. Artificial Intelligence	IV. Learning using many layers of neural networks
सूची – I	सूची – II																				
a. आईओटी (IoT)	I. डेटा की बहुत बड़ी मात्रा																				
b. बिग डेटा	II. ऐसी मशीनें जो मनुष्यों की तरह सोचती हैं और कार्य करती हैं																				
c. डीप लर्निंग	III. ऑनलाइन जुड़े और संचार करने वाले उपकरण																				
d. आर्टिफिशियल इंटेलिजेंस	IV. तंत्रिका तंत्र की कई परतों का उपयोग करके सीखना																				
List – I	List – II																				
a. IoT	I. Very large amount of data																				
b. Big Data	II. Machines that think and act like humans																				
c. Deep Learning	III. Devices connected and communicating online																				
d. Artificial Intelligence	IV. Learning using many layers of neural networks																				

80.	<p>बिग डेटा आमतौर पर कहाँ संग्रहीत किया जाता है ?</p> <p>उपर्युक्त में से कोई नहीं</p> <p>Where is Big Data usually stored ?</p> <p>None of the above</p>
81.	<p>उत्तर प्रदेश की निम्न गंगा नहर के संबंध में निम्नलिखित कथनों पर विचार करिए ।</p> <ol style="list-style-type: none"> 1. यह नहर 1878 में बनाई गई थी । 2. यह बुलंदशहर जिले में नरोरा से गंगा से निकलती है । 3. यह तमसा नदी पर बनाया गया है । <p>निम्नलिखित में से कौन-सा सही हैं ?</p> <p>1 और 2 दोनों सही हैं</p> <p>Consider the following statements regarding the Lower Ganga Canal of Uttar Pradesh.</p> <ol style="list-style-type: none"> 1. The Canal was constructed in 1878. 2. It originates from the Ganga at Narora in Bulandshahr district. 3. It was constructed on Tamsa river. <p>Which of the following is/are correct ?</p> <p>Both 1 and 2 are correct</p>
82.	<p>निम्नलिखित में से कौन-सा महाजनपद-राजधानी युग्म सुमेलित नहीं हैं ?</p> <p>अस्मक – विराट</p> <p>Which of the following Mahajanapad–Capital pairs is not rightly matched ?</p> <p>Asmak – Virat</p>
83.	<p>मगध में शुंग वंश को किस वंश ने प्रतिस्थापित किया ?</p> <p>कण्व वंश</p> <p>The Shung dynasty was replaced by which dynasty in Magadh ?</p> <p>The Kanva dynasty</p>
84.	<p>निम्नलिखित में से कौन-से जिले उत्तर प्रदेश के आजमगढ़ डिवीजन में आते हैं ?</p> <p>मऊ, बलिया</p> <p>Which of the following districts belong to Azamgarh Division of Uttar Pradesh ?</p> <p>Mau, Ballia</p>

85.	<p>1527 में खानवा के युद्ध में बाबर ने मेवाड़ के किस शासक को हराया ?</p> <p>मेवाड़ के राणा सांगा</p> <p>Which ruler of Mewar was defeated by Babur in the Battle of Khanwa in 1527 ?</p> <p>Rana Sanga of Mewar</p>
86.	<p>किस युद्ध में बाबर ने बंगाल और बिहार की संयुक्त सेनाओं को हराया ?</p> <p>घाघरा का युद्ध (1529)</p> <p>In which battle did Babur defeat the joint forces of Bengal and Bihar ?</p> <p>Battle of Ghaghara (1529)</p>
87.	<p>उत्तर प्रदेश सरकार ने किस तिथि को “उत्तर प्रदेश पर्यटन नीति 2022” अनुमोदित की ?</p> <p>16 नवंबर, 2022</p> <p>The Uttar Pradesh Government approved the “Uttar Pradesh Tourism Policy 2022” on which date ?</p> <p>16th November, 2022</p>
88.	<p>छोटा इमामबाड़ा और रूमी दरवाजा उत्तर प्रदेश के किस जिले में स्थित हैं ?</p> <p>लखनऊ</p> <p>Chota Imambara and Roomi Darwaza are located in which district of Uttar Pradesh ?</p> <p>Lucknow</p>
89.	<p>उत्तर प्रदेश के निम्नलिखित में से किस जिले में कैमूर वन्यजीव अभयारण्य स्थित है ?</p> <p>सोनभद्र</p> <p>Kaimur Wildlife Sanctuary is located in which of the following districts of Uttar Pradesh ?</p> <p>Sonbhadra</p>
90.	<p>निम्नलिखित में से कौन-से पठार उत्तर प्रदेश के दक्षिणी अग्रभाग को बनाते हैं ?</p> <p>बुंदेलखंड और बघेलखंड का पठार</p> <p>Which of the following plateaus form the southern frontier of Uttar Pradesh ?</p> <p>Bundelkhand and Baghelkhand Plateaus</p>
91.	<p>आर्कियन चट्टान, उत्तर प्रदेश में प्राचीनतम भौगोलिक संरचनाएँ, मुख्यतः किस जिलों में पाई जाती हैं ?</p> <p>सोनभद्र और ललितपुर</p> <p>Archaean rocks, the oldest geological structures in Uttar Pradesh, are mainly found in which districts ?</p> <p>Sonbhadra and Lalitpur</p>

92.	<p>भारत के मानक समय (IST) के संबंध में निम्नलिखित कथनों पर विचार करें ।</p> <ol style="list-style-type: none"> 1. IST की 82.5° पूर्वी देशांतर के आधार पर गणना की जाती है । 2. 82.5° पूर्वी देशांतर उत्तर प्रदेश में मिर्जापुर से होकर गुजरती है । 3. 82.5° पूर्वी देशांतर उत्तर प्रदेश में उन्नाव से होकर गुजरता है । <p>निम्नलिखित में से कौन-सा सत्य है ?</p> <p>1 और 2 दोनों सत्य हैं</p> <p>Consider the following statements regarding Indian Standard Time (IST).</p> <ol style="list-style-type: none"> 1. IST is calculated based on 82.5° east longitude. 2. 82.5° east longitude passes through Mirzapur of Uttar Pradesh. 3. 82.5° east longitude passes through Unnao of Uttar Pradesh. <p>Which of the following is correct ?</p> <p>Both 1 and 2 are correct</p>
93.	<p>निम्नलिखित में से किस नदी को “गोरखपुर का शोक” कहा जाता है ?</p> <p>राप्ती</p> <p>Which of the following rivers is called the “Sorrow of Gorakhpur” ?</p> <p>Rapti</p>
94.	<p>निम्नलिखित में से उत्तर प्रदेश के कौन-से हवाईपत्तन और उनकी अवस्थिति सही सुमेलित नहीं है ?</p> <p>कल्याणपुर अंतर्राष्ट्रीय हवाईपत्तन – अलीगढ़</p> <p>Which of the following airports of Uttar Pradesh and their locations is not correctly matched ?</p> <p>Kalyanpur International Airport – Aligarh</p>
95.	<p>GNIDA का पूर्ण रूप क्या है ?</p> <p>ग्रेटर नोएडा इंडस्ट्रियल डिवेलपमेंट ऑथोरिटी</p> <p>What does GNIDA stands for ?</p> <p>Greater Noida Industrial Development Authority</p>
96.	<p>2024 में शुरू ऑपरेशन द्रोणगिरी जो भूअंतरिक्ष तकनीक में नवाचार को बढ़ाने के लिए शुरू किया गया, निम्नलिखित में से किन राज्यों में कार्यान्वित किया गया है ?</p> <p>उत्तर प्रदेश, हरियाणा, असम, आंध्र प्रदेश, महाराष्ट्र</p> <p>Operation Dronagiri, launched in 2024 to promote driving innovation in geospatial technology, has been implemented in which of the following States ?</p> <p>Uttar Pradesh, Haryana, Assam, Andhra Pradesh, Maharashtra</p>

97.	<p>काशी तमिल संगमम (केटीएस) 3.0 उत्तर प्रदेश के किस नगर में 15 फरवरी से 24 फरवरी 2025 के बीच आयोजित किया गया ?</p> <p>वाराणसी</p> <p>The Kashi Tamil Sangamam (KTS) 3.0 was held from February 15 to 24, 2025, in which city of Uttar Pradesh ?</p> <p>Varanasi</p>
98.	<p>वर्ष 2025-26 के लिए उत्तर प्रदेश का बजट कितना है ?</p> <p>रु. 8,08,736.06 करोड़</p> <p>What is the size of the Uttar Pradesh Budget for the year 2025-26 ?</p> <p>Rs. 8,08,736.06 crore</p>
99.	<p>निम्नलिखित में से कौन-सा व्यक्ति वाराणसी, उत्तर प्रदेश से एक प्रसिद्ध भारतीय हॉकी खिलाड़ी हैं ?</p> <p>ललित उपाध्याय</p> <p>Which of the following person is an Indian veteran hockey player from Varanasi, Uttar Pradesh ?</p> <p>Lalit Upadhyay</p>
100.	<p>निम्नलिखित में से कौन-सा कथन टाइगर क्लॉ 2025 अभ्यास के बारे में सत्य है ?</p> <p>इसका गरुड़ रेजिमेंटल प्रशिक्षण केंद्र, उत्तर प्रदेश में समापन किया गया</p> <p>Which of the following statements is correct about exercise Tiger Claw 2025 ?</p> <p>It was concluded at the Garud Regimental Training Center in Uttar Pradesh</p>